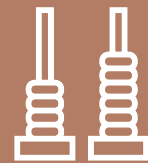


Numération

Combien y a-t-il de timbres ?

___ dizaines





Numération

Quelle somme d'argent a Robotine ?



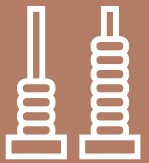
Calcul

Pose et calcule ces opérations.

$$78 + 12 =$$

$$41 + 49 =$$





Numération

$10 \text{ d} =$

$3 \text{ d} =$

$7 \text{ d} =$

$100 \text{ u} =$

Calcul

$87 + ? = 90$

$80 + ? = 90$

$69 + ? = 70$

$61 + ?$

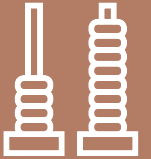
Numération

Ecris en lettres.

29:

89:






Numération

$$10 + 10 + 10 + 10 + 10 + 10 + 10 + 10 + 10 + 10 =$$

Calcul

$$25 + 45 =$$

$$54 + 23 =$$



Problème

Tirobot a 70 billes au début du jeu. Il en perd 20 billes.

Combien de billes a Tirobot, maintenant ?

--	--	--	--	--	--	--	--	--	--	--	--	--	--	--	--	--	--	--	--
