



Numération

Fiche 1

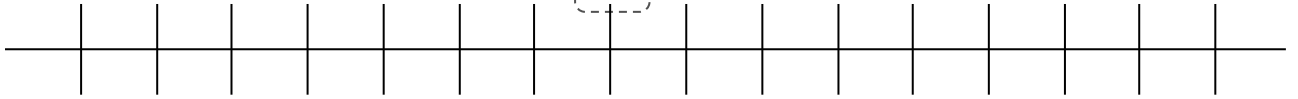
Les nombres de 0 à 79

1

Place les nombres suivants sur la ligne graduée : 65-75-70-79-73.

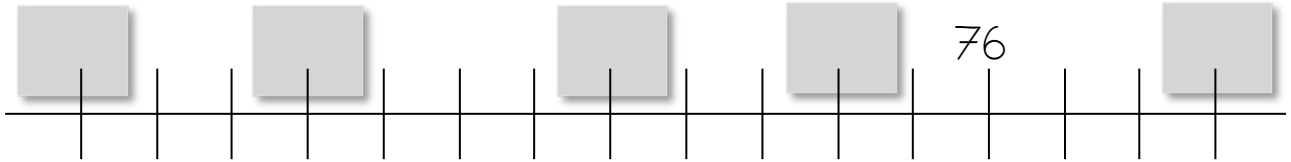


71



2

Complète uniquement les cases grises.



3

Ecris ces nombres en lettres.



75 : _____ 71 : _____

70 : _____ 79 : _____

11 : _____ 73 : _____

61 : _____ 74 : _____

4

Ecris ces nombres en chiffres.

soixante-dix-huit : _____

soixante-dix-neuf : _____

soixante-et-un : _____

Soixante-quinze : _____

soixante-sept : _____

soixante-dix : _____






Numération

Fiche 2

Les nombres de 0 à 79

1 Colorie le bon nombre de dizaines et le bon nombre d'unités.

74	10 10 10 10 10 10 10 10	66	10 10 10 10 10 10 10 10
	○○ ○○ ○○ ○○		○○ ○○ ○○ ○○
68	10 10 10 10 10 10 10 10	71	10 10 10 10 10 10 10 10
	○○ ○○ ○○ ○○		○○ ○○ ○○ ○○



2 Dessine le bon nombre de dizaines et d'unités.

73	65	72
----	----	----

3 Compte les dizaines et les unités



	10 10 10 10 10 10 10		10 10 10 10 10 10
	○○ ○○ ○○ ○○ ○○ ○○		○○ ○○ ○○ ○○
	10 10 10 10 10 10		○○ ○○ ○○ ○○ ○○ ○○
	○○ ○○ ○○ ○○ ○○ ○○		○○ ○○ 10 10 10 10 10 10

4 Décompose ces nombres en dizaines et unités.

	7 dizaines 3 unités	65	
73			6 dizaines 3 unités
	7 dizaines 8 unités	71	



Numération

Fiche 3

Les nombres de 0 à 79

- 1 Entoure le plus grand des deux nombres. 2 Entoure le plus petit des deux nombres.

$73 - 37$

$47 - 74$

$36 - 63$

$17 - 71$

$72 - 27$



$72 - 74$

$78 - 75$

$76 - 70$

$73 - 71$

$79 - 77$

- 3 Entoure les nombres plus petits que 72.

68 - 70 - 73 - 76 - 54 - 75 - 77 - 48 - 39 - 71

- 4 Entoure les nombres plus grands que 69.

7 - 56 - 62 - 74 - 51 - 78 - 21 - 75 - 68 - 70

- 5 Complète avec le signe $<$ ou le signe $>$. Exemple : $47 < 50$

$75 _ 57$

$74 _ 47$

$70 _ 07$

$76 _ 66$

$43 _ 72$

$36 _ 76$

$78 _ 72$

$73 _ 79$

$70 _ 71$





Numération

Fiche 4

Les nombres de 0 à 79

1

Complète avec le signe $<$ ou le signe $>$. Exemple : $47 < 50$

$77 _ 72$

$75 _ 57$

$34 _ 76$

$76 _ 72$

$27 _ 72$

$41 _ 79$

$74 _ 71$

$76 _ 67$

$07 _ 70$

$70 _ 73$

$72 _ 27$

$18 _ 78$

2

Range les nombres suivants dans l'ordre croissant.

74 - 56 - 24 - 70 - 38 - 69



— — — — —



3

Range les nombres suivants dans l'ordre décroissant.

68 - 75 - 21 - 38 - 76 - 77



— — — — —



4

Trouve le nombre encadré.

$73 < _ < 75$

$69 < _ < 71$

$72 < _ < 74$

$71 > _ > 69$

$75 > _ > 73$

$79 > _ > 77$



Numération

Fiche 5

Les nombres de 0 à 79

1

Trouve le nombre mystérieux.

Le nombre a 2 chiffres. Le chiffre des dizaines est plus grand que celui des unités. La somme des chiffres est 8. C'est un nombre pair.

Le nombre mystérieux est : _____



Le nombre est plus grand que 63 et plus petit que 79.
La somme des chiffres est 9.

Le nombre mystérieux est : _____



Le nombre a 2 chiffres. Le chiffre des dizaines est plus petit que celui des unités. La somme des chiffres est 8. C'est un nombre impair.

Le nombre mystérieux est : _____



Il est plus grand que 53 et plus petit que 79.
Il n'y a pas de 6. La somme des chiffres est 7.

Le nombre mystérieux est : _____