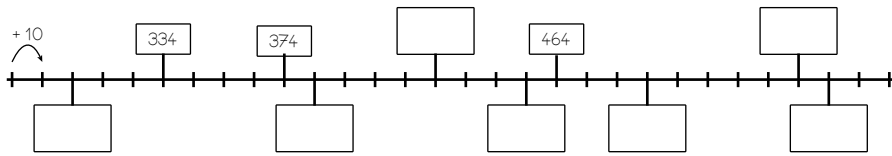


1 Trouve les nombres correspondants aux graduations marquées.



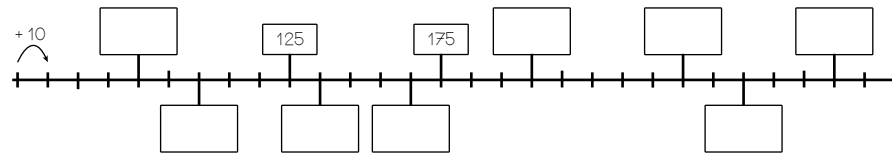
À chaque graduation, je fais un pas de ....., je dois donc compter de ..... en .....



4 Trouve les nombres correspondants aux graduations marquées.



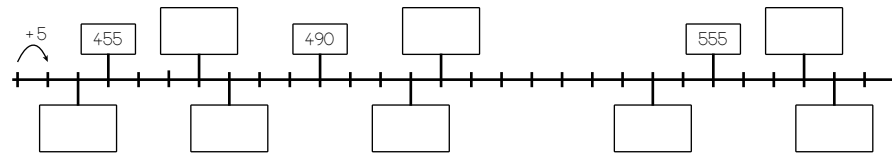
À chaque graduation, je fais un pas de ....., je dois donc compter de ..... en .....



3 Trouve les nombres correspondants aux graduations marquées.



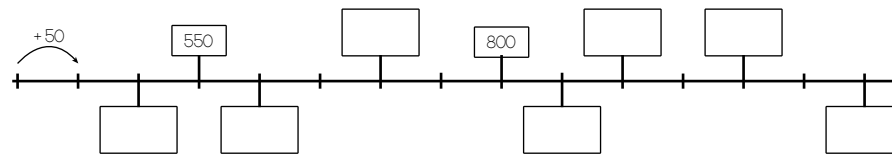
À chaque graduation, je fais un pas de ....., je dois donc compter de ..... en .....



2 Trouve les nombres correspondants aux graduations marquées.



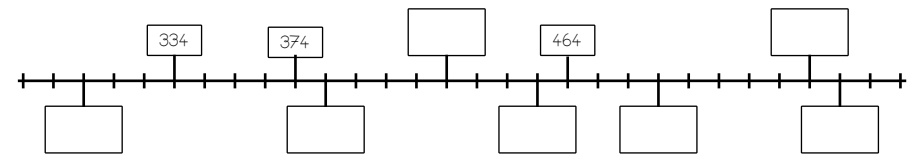
À chaque graduation, je fais un pas de ....., je dois donc compter de ..... en .....



1 Trouve les nombres correspondants aux graduations marquées.



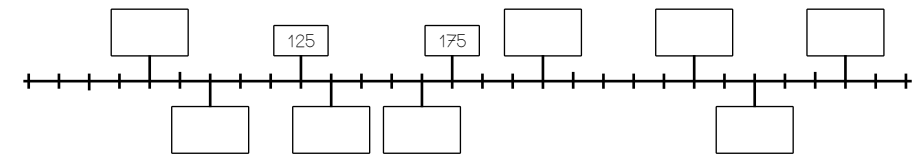
À chaque graduation, je fais un pas de ....., je dois donc compter de ..... en .....



4 Trouve les nombres correspondants aux graduations marquées.



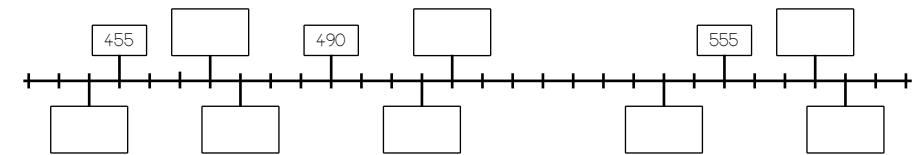
À chaque graduation, je fais un pas de ....., je dois donc compter de ..... en .....



3 Trouve les nombres correspondants aux graduations marquées.



À chaque graduation, je fais un pas de ....., je dois donc compter de ..... en .....



2 Trouve les nombres correspondants aux graduations marquées.



À chaque graduation, je fais un pas de ....., je dois donc compter de ..... en .....

