




























1 J'écris le nombre de perles dans la case.

	  <input type="text"/>	 <input type="text"/>	  <input type="text"/>
	 <input type="text"/>	  <input type="text"/>	 <input type="text"/>








1 J'écris le nombre de perles dans la case.

	  <input type="text"/>	 <input type="text"/>	  <input type="text"/>
	 <input type="text"/>	  <input type="text"/>	 <input type="text"/>








2 J'écris le nombre d'objets dans la case.

	 <input type="text"/>	 <input type="text"/>	 <input type="text"/>
	 <input type="text"/>	 <input type="text"/>	 <input type="text"/>








2 J'écris le nombre d'objets dans la case.

	 <input type="text"/>	 <input type="text"/>	 <input type="text"/>
	 <input type="text"/>	 <input type="text"/>	 <input type="text"/>


3 Je complète la collection

	 <input type="text" value="10"/>	 <input type="text" value="11"/>	 <input type="text" value="13"/>
	 <input type="text" value="17"/>	 <input type="text" value="19"/>	 <input type="text" value="15"/>


3 Je complète la collection

	 <input type="text" value="10"/>	 <input type="text" value="11"/>	 <input type="text" value="13"/>
	 <input type="text" value="17"/>	 <input type="text" value="19"/>	 <input type="text" value="15"/>

4 Je dessine le nombre de perles demandées.

	<input type="text" value="12"/>	<input type="text" value="16"/>	<input type="text" value="18"/>
	<input type="text" value="14"/>	<input type="text" value="13"/>	<input type="text" value="11"/>

4 Je dessine le nombre de perles demandées.

	<input type="text" value="12"/>	<input type="text" value="16"/>	<input type="text" value="18"/>
	<input type="text" value="14"/>	<input type="text" value="13"/>	<input type="text" value="11"/>