






















1 J'écris le nombre de perles dans la case.

	 <input type="text"/>	 <input type="text"/>	 <input type="text"/>
	 <input type="text"/>	 <input type="text"/>	 <input type="text"/>








1 J'écris le nombre de perles dans la case.

	 <input type="text"/>	 <input type="text"/>	 <input type="text"/>
	 <input type="text"/>	 <input type="text"/>	 <input type="text"/>








2 J'écris le nombre de perles dans la case.

	 <input type="text"/>	 <input type="text"/>	 <input type="text"/>
	 <input type="text"/>	 <input type="text"/>	 <input type="text"/>








2 J'écris le nombre de perles dans la case.

	 <input type="text"/>	 <input type="text"/>	 <input type="text"/>
	 <input type="text"/>	 <input type="text"/>	 <input type="text"/>

3 Je complète la collection

	 <input type="text" value="6"/>	 <input type="text" value="7"/>	 <input type="text" value="8"/>
	 <input type="text" value="10"/>	 <input type="text" value="9"/>	 <input type="text" value="12"/>


3 Je complète la collection

	 <input type="text" value="6"/>	 <input type="text" value="7"/>	 <input type="text" value="8"/>
	 <input type="text" value="10"/>	 <input type="text" value="9"/>	 <input type="text" value="12"/>

4 Je dessine le nombre de perles demandées.

	<input type="text" value="8"/>	<input type="text" value="4"/>	<input type="text" value="7"/>
	<input type="text" value="10"/>	<input type="text" value="13"/>	<input type="text" value="9"/>

4 Je dessine le nombre de perles demandées.

	<input type="text" value="8"/>	<input type="text" value="4"/>	<input type="text" value="7"/>
	<input type="text" value="10"/>	<input type="text" value="13"/>	<input type="text" value="9"/>