

Chaque jour
compte



Le furet

Compte à l'envers de 33
à 23.



Rituels




Chaque jour compte



33

Chaque jour
compte



Problème

Zoé ramasse 6 feuilles
brunes et 3 feuilles
rousses
Combien a-t-elle de
feuilles dans son panier ?



Rituels



Chaque jour compte



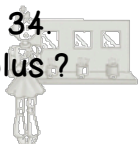
37

Chaque jour
compte



Plus grand/plus petit

Zoé a 30 jetons.
Arthur en a 34.
Qui en a le plus ?



Rituels




Chaque jour compte



34

Chaque jour
compte



Suite numérique

Compte de 25 à 38.



Rituels




Chaque jour compte



38

Chaque jour
compte



Plus grand/plus petit

Donne un nombre plus petit
que 35.



Rituels




Chaque jour compte



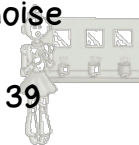
35

Chaque jour
compte



Plus grand/plus petit

Ecris le plus grand sur
ton ardoise



Rituels



Chaque jour compte



39

Chaque jour
compte



Défi Maths

Dessine 13 ronds sur ton
ardoise.



Rituels




Chaque jour compte



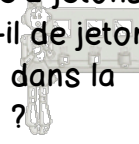
36

Chaque jour
compte



Problème


Je place 9 jetons dans la
boîte. J'enlève 2 jetons.
Combien y a-t-il de jetons
maintenant dans la
boîte ?



Rituels



Chaque jour compte



40