

Nombres

Sur ton ardoise, écris 3 nombres plus grands que 37.



Chaque jour compte



Rituel

Chaque jour compte



89

Défi Maths

Arthur veut 57 boutons.

Dessine ce qu'il doit commander.



Chaque jour compte



Rituel


Chaque jour compte



93

Calcul

$$\begin{array}{r} 7 - 2 \\ 9 - 6 \\ 8 - 4 \end{array}$$



Chaque jour compte



Rituel


Chaque jour compte



90

Géométrie

En utilisant ta règle, trace un triangle.



Chaque jour compte



Rituel

Chaque jour compte



94

Le furet

Compte à rebours de 59 à 50.



Chaque jour compte



Rituel

Chaque jour compte



91

Défi Maths

Zoé a 10 images. Elle doit mettre 2 images dans chaque enveloppe.

Combien d'enveloppes lui faut-il ?



Chaque jour compte



Rituel

Chaque jour compte



95

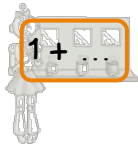
Calcul

Complète pour que le résultat soit égal à 7.

$3 + \dots$

$8 - \dots$

$1 + \dots$



Chaque jour compte



Rituel

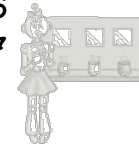
Chaque jour compte



92

Calcul

$$\begin{array}{r} 50 + 2 \\ 40 + 6 \\ 40 + 7 \end{array}$$



Chaque jour compte



Rituel

Chaque jour compte



96