

Nombres

Range les nombres suivants du plus petit au plus grand.

273 – 146 – 506 – 341



Rituel

Chaque jour compte



89

Défi Maths

Dans la tirelire d'Alex, il y a 15 pièces de 2 € et 3 billets de 10€.

Trouve deux façons de payer un livre qui coûte 20€.



Rituel

Chaque jour compte



93

Qui suis-je ?

J'ai 4 côtés et 4 angles droits.
Mes 4 côtés mesurent 5 carreaux.

Dans ton cahier, trace cette figure dans ton cahier et nomme-la.



Rituel

Chaque jour compte

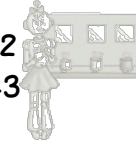


90

Calcul

Calcule avec la méthode de ton choix.

623 + 142
496 – 143



Rituel

Chaque jour compte



94

Ecriture

A l'aide des étiquettes suivantes, écris 3 nombres en lettres.

soixante


cent

quatre



Rituel

Chaque jour compte



91

Défi Maths

Moustik possède 3 voitures qui ont 4 roues. Il compte toutes les roues.

Combien de roues a-t-il comptées ?



Rituel

Chaque jour compte



95

Nombres

Complète avec > ou <.

431 174
625 546
251 215



Rituel


Chaque jour compte



92

Le furet

Compte de 10 en 10 de 264 à 324.



Rituel

Chaque jour compte



96