

### Le furet

Compte de 2 en 2 de 49 à 61.



Rituels

### Chaque jour compte



49

### Nombre

Ecris le nombre 53 en lettres.



Rituels

### Chaque jour compte



53

### VRAI / FAUX

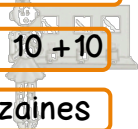
Toutes les étiquettes sont égales à 50 :

5 dizaines 0 unités

$10 + 10 + 10 + 10 + 10$

$5 + 0$

5 dizaines



Rituels

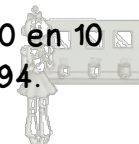
### Chaque jour compte



50

### Défi

Compte de 10 en 10 de 54 à 94.



Rituels

### Chaque jour compte




54

### Calcul posé

Pose et effectue

$$24 + 13$$

$$32 + 17$$



Rituels

### Chaque jour compte



51

### Défi Maths

Dessine de 2 manières la somme de 55€.



Rituels

### Chaque jour compte



55

### Défi

Trouve 3 écritures différentes du nombre 53.



Rituels

### Chaque jour compte



52

### Défi Maths

Julie a 16 crayons. Elle donne la moitié de ses crayons à Lisa.

Combien de billes donne-t-elle à Lisa ?



Rituels

### Chaque jour compte



56