

Défi Maths


En utilisant les étiquettes suivantes, trouve 3 nombres.

quatre

six

vingt(s)

Chaque jour compte



Rituels

Chaque jour compte



41

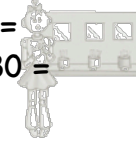
Calcul

Calcule en ligne

$$10 + 30 =$$

$$20 + 10 + 30 =$$

Chaque jour compte



Rituels

Chaque jour compte



45

Problème

Chez le libraire, j'achète une BD à 8€ et un roman à 21€.

Combien ai-je dépensé ?

Chaque jour compte



Rituels

Chaque jour compte



42

Problème

Alex a 2 boîtes. Dans chaque boîte, il y a 23 billes.

Combien a-t-il de billes ?

Chaque jour compte



Rituels

Chaque jour compte




46

Le furet

Compte à rebours de 43 à 30.

Chaque jour compte



Rituels

Chaque jour compte




43

Nombres

Range les nombres suivants du plus grand au plus petit.


$$74 - 42 - 47$$

Chaque jour compte



Rituels

Chaque jour compte



47

Géométrie

Trace 2 segments de 8 cm chacun.

Chaque jour compte



Rituels

Chaque jour compte



44

Nombres

Ecris le nombre 48 en lettres.

Chaque jour compte



Rituels

Chaque jour compte



48