

Chaque jour  
compte

### Défi Maths

Arthur a 3 billes rouges.  
Zoé lui donne 2 billes  
bleues.

Combien Arthur a-t-il de  
billes maintenant ?



Rituels

Chaque jour compte




57

Chaque jour  
compte

### Nombres

Donne le nombre qui vient  
avant 30.



Rituels

Chaque jour compte



61

Chaque jour  
compte

### Nombres


Range les nombres  
suivants du plus petit au  
plus grand.

26 - 31 - 14



Rituels

Chaque jour compte



58

Chaque jour  
compte

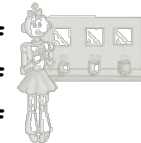
### Calcul

Calcule en ligne

$30 + 6 =$

$20 + 8 =$

$30 + 2 =$



Rituels

Chaque jour compte



62

Chaque jour  
compte

### Géométrie

Dessine un rectangle  
sur ton ardoise.



Rituels

Chaque jour compte



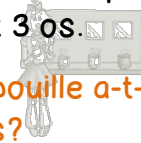
59

Chaque jour  
compte

### Défi Maths

Gribouille range ses os  
dans 2 boîtes. Chaque  
contient 3 os.

Combien Gribouille a-t-il  
d'os?



Rituels

Chaque jour compte



63

Chaque jour  
compte

### Le furet

Compte à rebours de 29 à  
20.



Rituels

Chaque jour compte




60

Chaque jour  
compte

### Nombres

Ecris en chiffre :

deux  
six  
quatre



Rituels

Chaque jour compte



64