


Chaque jour compte

Défi Maths

Voici la commande de Zoé.



→ Combien a-t-elle commandé de boutons ?

Rituel

Chaque jour compte



97

Chaque jour compte

Défi Maths

Zoé a 20 images. Elle doit mettre 5 images dans chaque enveloppe.

→ Combien d'enveloppes lui faut-il ?

Rituel

Chaque jour compte



101

Chaque jour compte


Nombres

Range les nombres suivants du plus petit au plus grand.

→ 17 - 43 - 21 - 59 - 56

Rituel

Chaque jour compte



98

Chaque jour compte

La monnaie

Arthur a 13€ dans sa tirelire.

→ Dessine les pièces et les billets qu'il peut avoir.

Rituel

Chaque jour compte



102

Chaque jour compte


Calcul

40 + 6
20 + 8
30 + 7
50 + 2

→

Rituel

Chaque jour compte



99

Chaque jour compte


Défi Maths

Zoé veut 47 boutons.

→ Dessine sa commande.

Rituel

Chaque jour compte



103

Chaque jour compte


Le jour 100

Avec un camarade réalise une collection de 100 objets.

→ Tu peux t'aider de l'affichage « Chaque jour compte »

Rituel

Chaque jour compte



100

Chaque jour compte

Le furet

Compte de 2 en 2 de 4 à 16.

→

Rituel

Chaque jour compte



104