



Ecriture

Ecris en lettres le nombre 596.



Rituel

Chaque jour compte



97

Défi Maths


Ecris le plus grand nombre possible avec les 3 chiffres suivants.

5 - 1 - 8



Rituel


Chaque jour compte



101

Le furet

Compte de 10 en 10 de 563 à 643.



Rituel

Chaque jour compte



98

Géométrie

En t'aidant des carreaux de ton cahier, trace une figure simple dans ton cahier et demande à ton voisin de la reproduire.



Rituel


Chaque jour compte



102

Calcul

4 x 5
3 x 5
8 x 5



Rituel

Chaque jour compte



99


Calcul

67 + 9
53 + 4
58 + 7



Rituel

Chaque jour compte



103


Le jour 100

Avec un camarade, réalise une collection de 100 objets.



Rituel

Chaque jour compte

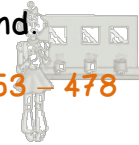


100

Nombres


Range les nombres suivants du plus petit au plus grand.

462 - 412 - 453 - 478



Rituel

Chaque jour compte



104