

### Problème

Moustik a 5 enveloppes.  
Dans chaque enveloppe,  
il y a 2 images.

Combien a-t-il d'images  
au total ?

Chaque jour  
compte



Rituels

Chaque jour compte



81

### Défi Maths

Ecris au moins 4 nombres  
différents en utilisant les  
chiffres suivants :

5 3 1

Chaque jour  
compte



Rituels

Chaque jour compte



85

### Nombres

Ecris tous les nombres  
compris entre 253 et 261.

Chaque jour  
compte



Rituels

Chaque jour compte



82

### Problème

Lisa veut faire un collier  
de 345 perles.

Ecris ce qu'elle doit  
commander.

Chaque jour  
compte



Rituels

Chaque jour compte



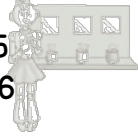
86

### Calcul

Calcule avec la  
méthode de ton choix.


$$\begin{array}{l} 278 + 65 \\ 132 + 246 \end{array}$$

Chaque jour  
compte



Rituels

Chaque jour compte



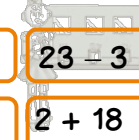
83

### Défi Maths

Recopie sur ton ardoise les  
étiquettes dont le résultat est  
20.

$12 + 9$	$16 + 4$	$23 - 3$
$11 + 9$	$13 - 7$	$2 + 18$

Chaque jour  
compte



Rituels

Chaque jour compte



87

### Ecriture

Ecris le nombre 685 en  
lettres.

Chaque jour  
compte



Rituels

Chaque jour compte



84

### Géométrie

En utilisant les carreaux  
de ton cahier, trace un  
carré dont les côtés  
mesurent 5 carreaux.

Chaque jour  
compte



Rituels

Chaque jour compte



88