


Chaque jour compte


Calcul

8 - 2 =
5 - 2 =
6 - 3 =



Rituels

Chaque jour compte




65

Chaque jour compte

Défi Maths


Gribouille est la case 8. Il avance de 4 cases.

Sur quelle case arrive-t-il ?



Rituels

Chaque jour compte




69

Chaque jour compte

Le furet

Compte de 25 à 36.



Rituels

Chaque jour compte




66

Chaque jour compte

Calcul

Trouve trois calculs dont le résultat est 6.



Rituels

Chaque jour compte




70

Chaque jour compte

Défi Maths


Gribouille veut donner autant de bonbons à Arthur qu'à Zoé. Il a 8 bonbons.

Est-ce possible ?



Rituels

Chaque jour compte




67

Chaque jour compte

Défi Maths


Gribouille est la case 9. Il recule de 3 cases.

Sur quelle case arrive-t-il ?



Rituels

Chaque jour compte




71

Chaque jour compte


Mesure

Choisis 5 crayons de couleur et range les du plus petit au plus grand.



Rituels

Chaque jour compte

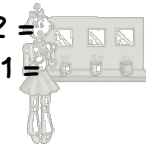


68

Chaque jour compte


Calcul

2 + 3 + 3 =
5 + 1 + 2 =
4 + 2 + 1 =



Rituels

Chaque jour compte



72