

### Le furet

Compte de 295 à 312



Rituel

Chaque jour compte



65

### Défi Maths

Range les nombres suivants du plus petit au plus grand.

269 - 192 - 417



Rituel

Chaque jour compte



69

### VRAI / FAUX

Toutes les étiquettes sont égales à 100 :

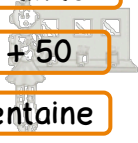
10 dizaines 0 unité

2 x 50

2 + 50


10 + 0

1 centaine



Rituel

Chaque jour compte



66


### Nombre

Trouve 2 manières différentes d'écrire le nombre 263.



Rituel

Chaque jour compte



70

### Ecriture

Ecris en lettres le nombre 528.



Rituel

Chaque jour compte



67

### Problèmes


Moustik a 57€ dans la tirelire. Il n'a que des billets de 10€ et des pièces de 1€.

Combien de pièces et de billets a-t-il ?



Rituel

Chaque jour compte



71

### Géométrie

En utilisant les carreaux de ton cahier, trace 2 rectangles.



Rituel

Chaque jour compte



68


### Défi Maths

Dessine de 2 manières différentes la somme de 341€.



Rituel

Chaque jour compte



72