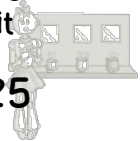


Nombres

Range les nombres suivants du plus grand au plus petit

→ 42 – 8 – 25

Chaque jour compte



Rituel

Chaque jour compte



25

Dizaines/unités

Dessine sur ton ardoise les dizaines et unités du nombre 29.



Chaque jour compte



Rituel

Chaque jour compte



29

Le furet

Compte de 26 à 32

...



Chaque jour compte



Rituel

Chaque jour compte



26

Défi Maths

Dessine de 2 manières différentes la somme de 30 €.




Chaque jour compte



Rituel

Chaque jour compte



30

Calcul

Calcule en ligne

27-1

27+2

27-2

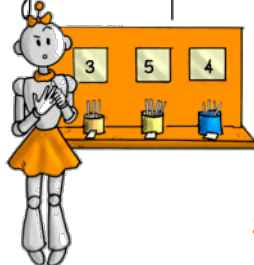


Chaque jour compte



Rituel

Chaque jour compte



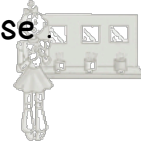
27

Ecriture

Ecris 31 en lettres sur ton ardoise.




Chaque jour compte



Rituel

Chaque jour compte



31

Nombres

Donne les 3 nombres après 28.




Chaque jour compte



Rituel

Chaque jour compte



28

Doubles / Moitiés

Donne le double de 16




Chaque jour compte



Rituel

Chaque jour compte



32