

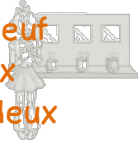
Chaque jour
compte



Nombres

Ecris en chiffres


quarante – neuf
trente – six
cinquante – deux



Rituel



Chaque jour compte



105

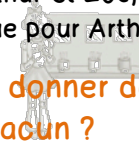
Chaque jour
compte



Défi Maths

Gribouille a 12 cubes. Il veut les répartir entre Arthur et Zoé, autant pour Zoé que pour Arthur.

Combien doit-il donner de cubes à chacun ?



Rituel



Chaque jour compte



109

Chaque jour
compte



La monnaie

Zoé a 27 € dans sa tirelire.

Dessine les pièces et les billets qu'il peut avoir.



Rituel



Chaque jour compte




106

Chaque jour
compte



Calcul

$5 + 5$
 $8 + 8$
 $2 + 2$
 $7 + 7$



Rituel



Chaque jour compte



110

Chaque jour
compte



Défi Maths

Zoé veut 52 boutons.

Dessine sa commande.



Rituel



Chaque jour compte



107

Chaque jour
compte



Nombres

Range les nombres suivants du plus grand au plus petit.



23 – 56 – 14 – 28 – 35



Rituel



Chaque jour compte



111

Chaque jour
compte



Le furet

Compte à rebours de 59 à 45.



Rituel



Chaque jour compte



108

Chaque jour
compte



Le furet

Compte de 10 en 10 de 18 à 58.



Tu peux utiliser ton compteur.



Rituel



Chaque jour compte



112