

Défi Maths

Alex possède 7 voitures qui ont 4 roues. Il compte toutes les roues.

Combien de roues a-t-il comptées ?

Chaque jour compte



Rituels

Chaque jour compte



105

Défi Maths

Dans cette boîte, il y a 12 billes. 5 billes sont rouges. Les autres billes sont bleues.

Combien y a-t-il de billes bleues ?

Chaque jour compte



Rituels

Chaque jour compte



109

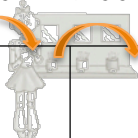
Calcul

Complète

+1 +100 +10 +100


143

Chaque jour compte



Rituels

Chaque jour compte



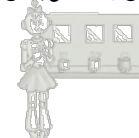
106

Ecriture

Ecris en lettres le nombre


780.

Chaque jour compte



Rituels

Chaque jour compte



110

Défi Maths

En utilisant les 3 chiffres suivants, trouve 4 nombres à 3 chiffres.

4 - 9 - 2

Chaque jour compte



Rituels

Chaque jour compte



107

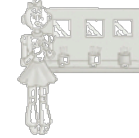
Calcul

$$3 \times 7$$

$$4 \times 9$$

$$2 \times 5$$

Chaque jour compte



Rituels

Chaque jour compte



111

Calcul

$$46 - 22$$

$$18 - 6$$


$$68 - 31$$

Chaque jour compte



Rituels

Chaque jour compte



108

Géométrie

Trace un triangle rectangle à l'aide de ton matériel de géométrie.

Chaque jour compte



Rituels

Chaque jour compte



112