

Prénom : _____







Date: / /







Évaluation :
Repérage sur quadrillage

Math

Géométrie







1 Je donne les coordonnées des formes.

	A	B	C	D	E	F	G	H
1								
2								
3								
4								
5								
6								







2 Je dessine les formes dans les bonnes cases.

	A	B	C	D	E	F	G	H
1								
2								
3								
4								
5								
6								

	(B, 2)
	(C, 5)
	(F, 1)
	(E, 6)
	(H, 3)
	(D, 4)



3 Je me repère sur un quadrillage (nœuds).

	A	B	C	D	E	F	G	H
1								
2								
3								
4								
5								

	(A, 1)
	(D, 5)
	(E, 2)
