

Prénom : _____

Date: / /

Evaluation : les nombres de 0 à 999

Math

Numération

1 Place les nombres dans les cases.

67
----	-----	----

125
-----	-----	-----

180	181	...
-----	-----	-----

524
-----	-----	-----

265
-----	-----	-----

145	146	...
-----	-----	-----

84
----	-----	-----

500
-----	-----	-----

2 Ecris les nombres en chiffres.

cent-quarante-deux:.....

quatre-vingt-huit:.....

deux-cents :

trois-cent cinquante:.....

soixante-neuf :

quatre-cent-sept :



3 Ecris les nombres en lettres.

21 :

32 :

40:

60 :

53:.....

14:

4 Dictée de nombres : écris un nombre par case.

--	--	--	--	--	--	--	--	--	--	--

5 Complète avec le signe < ou >

243 178

605 560

90 191

270 178

326 483

320 230

153 351

910 490

Prénom : _____


Date: / /

Evaluation : les nombres de 0 à 999




Math

Numération



6 Les centaines Ecris le nombre de perles dans le cadre.



•
•





•••
•••



••





7 Entoure le bon nombre de cartes.



•••••
•••••

215



•••••
•••••

302