




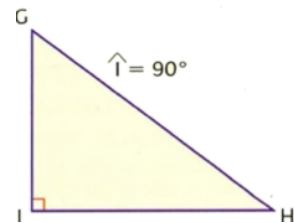
Les triangles (1)

♥ Le triangle

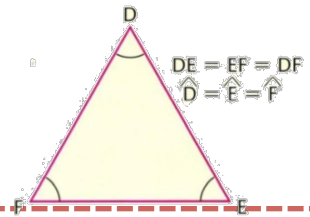


●
Pas de particularité : il a trois côtés,
trois angles et trois sommets.

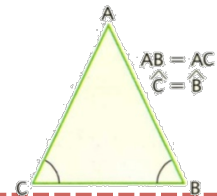
●
c'est un triangle qui a
.....



●
c'est un triangle qui a
..... et

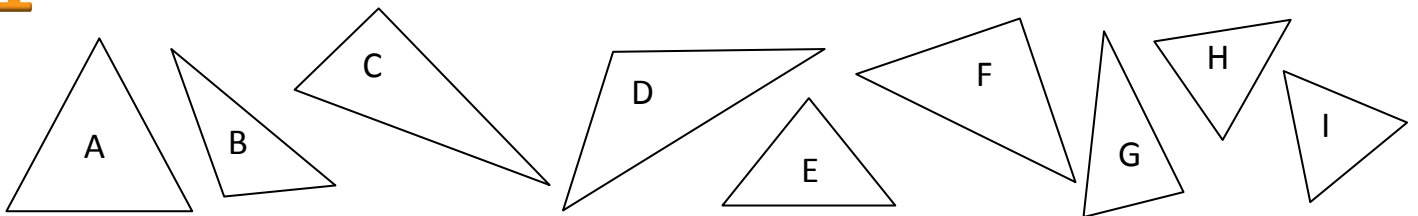


●
c'est un triangle qui a
..... et



Complète le tableau :

1



Triangle	Angle droit	Côtés de même longueur	Angles égaux	Aucune particularité
A				
B				
C				
D				
E				
F				
G				
H				
I				




Les triangles (1)

♥ Le triangle est un polygone à trois côtés.

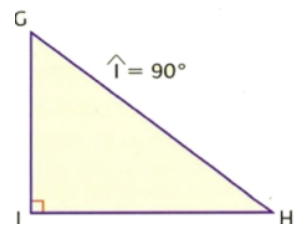
● Un triangle quelconque...

Pas de particularité : il a trois côtés, trois angles et trois sommets.



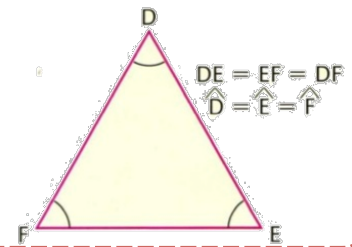
● Un triangle rectangle

c'est un triangle qui a un angle droit



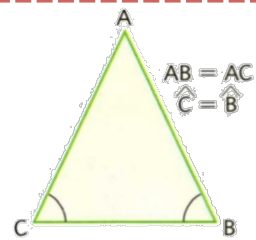
● Un triangle équilatérale

c'est un triangle qui a trois angles égaux et trois côtés égaux

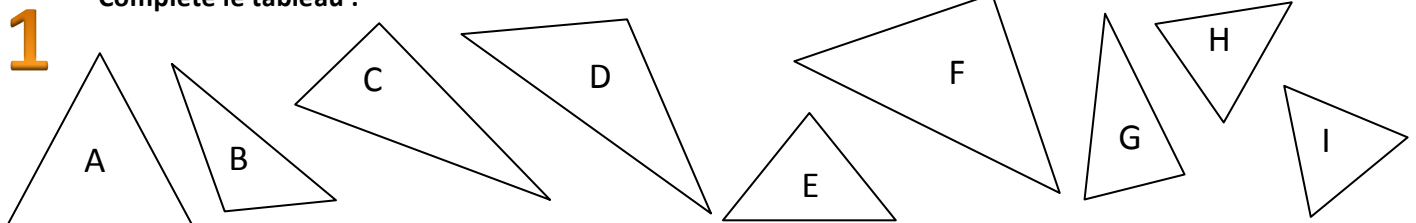


● Un triangle isocèle

c'est un triangle qui a deux angles égaux et deux côtés égaux



Complète le tableau :



Triangle	Angle droit	Côtés de même longueur	Angles égaux	Aucune particularité	Nom
A	non	3	3	-	Triangle Equilatéral
B	non	non	non	oui	Triangle Quelconque
C	oui	non	non	-	Triangle Rectangle
D	non	non	non	oui	Triangle Quelconque
E	non	2	2	-	Triangle Isocèle
F	oui	2	2	-	Isocèle rectangle
G	non	non	non	oui	Triangle Quelconque
H	non	2	2	-	Triangle Isocèle
I	non	3	3	-	Triangle Equilatéral