



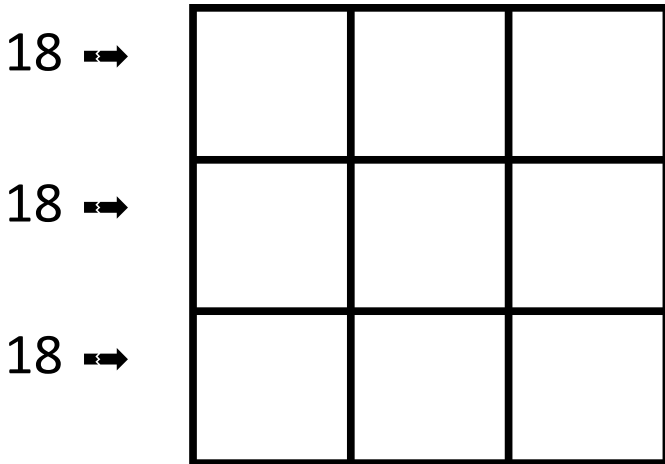
Mathématiques CM

Jeux de Calcul 3

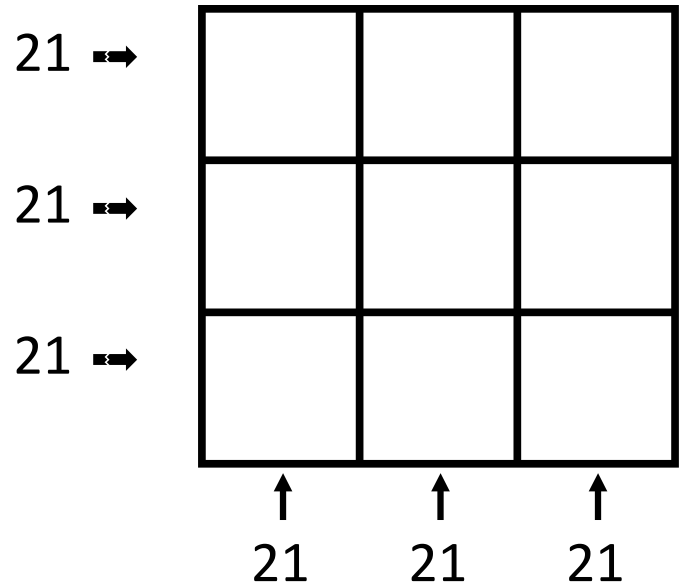
NOM :

date :

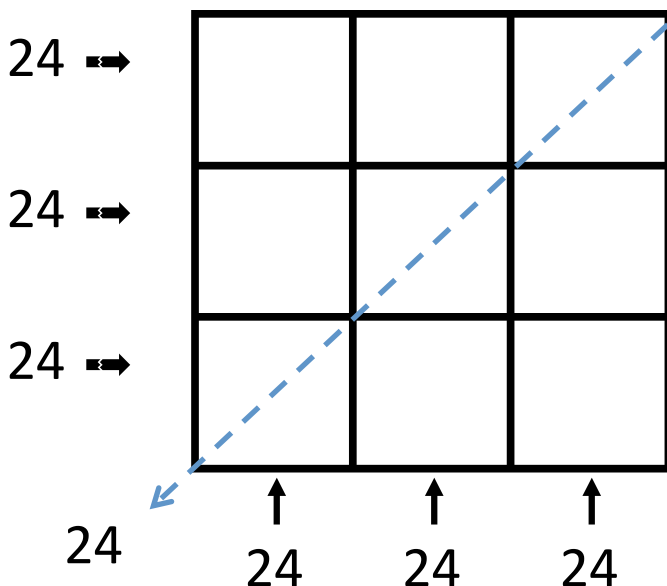
1 – Utilise les nombres de 2 à 10, un par case. La somme des 3 nombres placés sur chaque ligne doit être égale à 18.



2 – Utilise les nombres de 3 à 11, un par case. La somme des 3 nombres placés sur chaque colonne et sur chaque ligne doit être égale à 21.



3 – Utilise les nombres de 4 à 12, un par case. La somme des 3 nombres placés sur chaque ligne et sur la diagonale indiquée doit-être égale à 24.



BDG