




Géométrie Rapide Série B

1

NOM :

date :

Trace une droite (d). Trace un point A qui appartient à la droite (d).
Trace une droite (F) sécante à (d) au point A.





Géométrie Rapide Série B

3

NOM :

date :

Trace trois points A, B et C qui sont alignés et un pont D qui ne l'est pas.





Géométrie Rapide Série B

2

NOM :

date :

Trace une droite (d) perpendiculaire à la droite (f).



Géométrie Rapide Série B

4

NOM :

date :

Trace une droite (f) perpendiculaire à la droite (d) passant par A.
Place le point M à leur intersection.

