



1 Calcul mental : Appui sur les doubles 

| | | | | |
|-------|-------|--------|-------|--------|
| 3 + 5 | 5 + 6 | 10 + 8 | 7 + 9 | 8 + 6 |
| 2 + 4 | 4 + 6 | 6 + 7 | 8 + 9 | 9 + 10 |

2 Complète les cases : Compter de 5 en 5.

| | | | | | | |
|---|---|----|----|----|--|--|
| 0 | 5 | 10 | | | | |
| | | 35 | 40 | | | |
| | | | | 65 | | |



3 Dis le nombre suivant. 28 → 29

29 - 58 - 68 - 82 - 95 


4 Dis le nombre précédent. 28 → 27

51 - 42 - 48 - 75 - 97 1 Calcul mental : Appui sur les doubles 


| | | | | |
|-------|-------|--------|-------|--------|
| 3 + 5 | 5 + 6 | 10 + 8 | 7 + 9 | 8 + 6 |
| 2 + 4 | 4 + 6 | 6 + 7 | 8 + 9 | 9 + 10 |

2 Complète les cases : Compter de 5 en 5.



| | | | | | | |
|---|---|----|----|----|--|--|
| 0 | 5 | 10 | | | | |
| | | 35 | 40 | | | |
| | | | | 65 | | |



3 Dis le nombre suivant. 28 → 29

29 - 58 - 68 - 82 - 95 


4 Dis le nombre précédent. 28 → 27

51 - 42 - 48 - 75 - 97 1 Calcul mental : Appui sur les doubles 


| | | | | |
|-------|-------|--------|-------|--------|
| 3 + 5 | 5 + 6 | 10 + 8 | 7 + 9 | 8 + 6 |
| 2 + 4 | 4 + 6 | 6 + 7 | 8 + 9 | 9 + 10 |

2 Complète les cases : Compter de 5 en 5.



| | | | | | | |
|---|---|----|----|----|--|--|
| 0 | 5 | 10 | | | | |
| | | 35 | 40 | | | |
| | | | | 65 | | |



3 Dis le nombre suivant. 28 → 29

29 - 58 - 68 - 82 - 95 


4 Dis le nombre précédent. 28 → 27

51 - 42 - 48 - 75 - 97 1 Calcul mental : Appui sur les doubles 

| | | | | |
|-------|-------|--------|-------|--------|
| 3 + 5 | 5 + 6 | 10 + 8 | 7 + 9 | 8 + 6 |
| 2 + 4 | 4 + 6 | 6 + 7 | 8 + 9 | 9 + 10 |

2 Complète les cases : Compter de 5 en 5.

| | | | | | | |
|---|---|----|----|----|--|--|
| 0 | 5 | 10 | | | | |
| | | 35 | 40 | | | |
| | | | | 65 | | |



3 Dis le nombre suivant. 28 → 29

29 - 58 - 68 - 82 - 95 

4 Dis le nombre précédent. 28 → 27

51 - 42 - 48 - 75 - 97 