

Problème Rapide CM

FICHE 3
Niveau 1

NOM : date :


Au départ le compteur de la voiture indiquait 25 735 km.

A l'arrivée, il affiche 26 102 km.

Combien de km ai-je parcouru ?

Calcul :

Réponse :



Problème Rapide CM

FICHE 3
Niveau 1

NOM : date :


Au départ le compteur de la voiture indiquait 25 735 km.

A l'arrivée, il affiche 26 102 km.

Combien de km ai-je parcouru ?

Calcul :

Réponse :



Problème Rapide CM

FICHE 3

NOM : date :



Quel est le prix du dictionnaire ?

Calcul :

Réponse :

.....



Problème Rapide CM

FICHE 3

NOM : date :




Quel est le prix du dictionnaire ?

Calcul :

Réponse :

.....



Problème Rapide CM

FICHE 3
Niveau 3


NOM : date :

En France on a vendu 2 250 000 voitures en 2010, soit 19 200 de moins qu'en 2009.

Combien voitures ont été vendues en 2009 ?

Calcul :

Réponse :



Problème Rapide CM

FICHE 3
Niveau 3

NOM : date :

En France on a vendu 2 250 000 voitures en 2010, soit 19 200 de moins qu'en 2009.

Combien voitures ont été vendues en 2009 ?

Calcul :

Réponse :